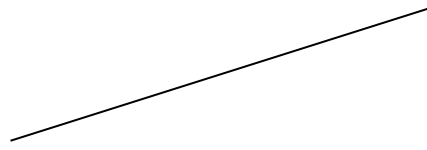


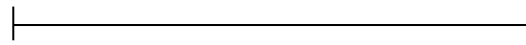
Gerade und Strecke

Das ist eine Gerade:



Eine Gerade ist eine gerade Linie, die kein Anfang und kein Ende hat. Sie ist unendlich.

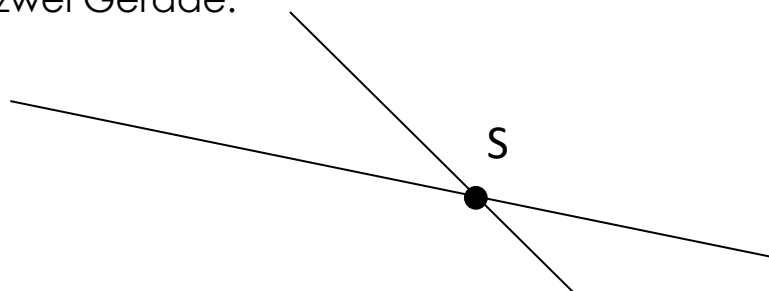
Das ist eine Strecke:



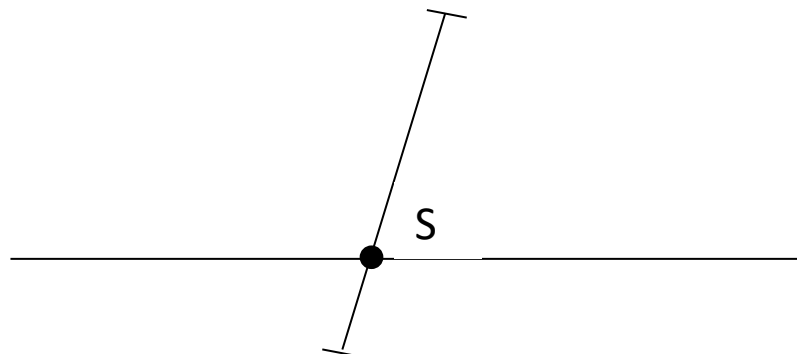
Eine Strecke ist eine gerade Linie, die begrenzt ist. Du kannst ihre Länge abmessen.

Strecken und Geraden können sich schneiden. Der Punkt, an dem sie sich schneiden, wird Schnittpunkt (S) genannt.

Hier schneiden sich zwei Gerade:



Hier schneiden sich eine Strecke und eine Gerade:



Aufgaben:

Zeichne mit Lineal und mit gespitztem Bleistift!

1. Zeichne eine Gerade!
2. Zeichne eine Strecke mit der Länge 7 cm!
3. Zeichne eine Strecke mit der Länge 5 cm 3 mm!
4. Zeichne eine Strecke mit der Länge 65 mm!
5. Zeichne zwei Geraden, die sich schneiden!
6. Zeichne zwei Strecken, die sich schneiden! Wähle selbst die Länge der Strecken!
7. Zeichne eine Gerade und eine Strecke, die sich schneiden. Die Strecke soll 76 mm lang sein.